



## GUÍA No. 04

**DOCENTE:** AZUCENA CASTILLO

**ASIGNATURA:** MATEMATICAS

**GRADO:** 1°

**TIEMPO:** Semana del 6 al 9 de Julio

**META DE APRENDIZAJE:** Describo, comparo y cuantifico situaciones con números en diferentes contextos, y con diversas representaciones

### MOMENTOS PARA EL DESARROLLO DE LA GUIA



1. **VIVENCIA:** con ayuda de mamita resuelvo.

Marcela es dueña de una peluquería. Ella cuenta la cantidad de cortes que realizó. Podrías ayudarle a Marcela a saber cuántos cortes hizo el día de hoy, si antes de mediodía llevaba 8 cortes y por la tarde realizó 2 cortes más.





**B. FUNDAMENTACIÓN CIENTÍFICA:** cuento y realizo las sumas.


1


$$\underline{3} + \underline{2} = \boxed{5}$$



2


$$\underline{5} + \underline{2} = \boxed{\phantom{00}}$$



3


$$\underline{\phantom{00}} + \underline{\phantom{00}} = \boxed{\phantom{00}}$$



4


$$\underline{\phantom{00}} + \underline{\phantom{00}} = \boxed{\phantom{00}}$$



5




$$\underline{\phantom{00}} + \underline{\phantom{00}} = \boxed{\phantom{00}}$$



6


$$\underline{\phantom{00}} + \underline{\phantom{00}} = \boxed{\phantom{00}}$$



**C. ACTIVIDAD EJERCITACION:** realizo las siguientes sumas.

$$4 + 6 =$$





$$9 + 1 =$$





$$\square + \square = \square$$

$$\square + \square = \square$$

$$\square + \square = \square$$

$$\square + \square = \square$$

**D. ACTIVIDAD APLICACIÓN/COMPLEMENTACION:** cuento y sumo

| 0                    | 1                    | 2                    | 3                    | 4                    | 5 | 6 | 7 | 8 | 9 | 10 |
|----------------------|----------------------|----------------------|----------------------|----------------------|---|---|---|---|---|----|
| 2                    | 5                    | 7                    | 4                    | 8                    |   |   |   |   |   |    |
| +2                   | +1                   | +2                   | +4                   | +2                   |   |   |   |   |   |    |
| <input type="text"/> | <input type="text"/> | <input type="text"/> | <input type="text"/> | <input type="text"/> |   |   |   |   |   |    |
| 2                    | 1                    | 9                    | 6                    | 7                    |   |   |   |   |   |    |
| +3                   | +3                   | +1                   | +2                   | +3                   |   |   |   |   |   |    |
| <input type="text"/> | <input type="text"/> | <input type="text"/> | <input type="text"/> | <input type="text"/> |   |   |   |   |   |    |

Referencias Bibliográficas:

<https://www.mineducacion.gov.co/1759/w3-article-346020.html?noredirect=1>

Cuando desarrolles esta guía, debes escanearla o tomarle una foto y enviarla al WhatsApp 3118476477 o al correo electrónico [azuze.128@hotmail.com](mailto:azuze.128@hotmail.com); Si necesitas asesoría, puedes comunicarte con el docente por los medios antes mencionados.